

令和2年度 後期日程  
入学者選抜学力検査問題

生命環境学部 環境デザイン学科  
美 術

[注 意]

- 1 机上に受験票を提示しておくこと。
- 2 監督者の指示があるまで、この冊子を開いてはいけない。
- 3 解答は必ず別紙の解答用紙に記入すること。
- 4 解答用紙に受験番号・氏名を必ず記入すること。
- 5 この冊子の問題は2ページからなっている。
- 6 この冊子に落丁・乱丁または印刷不鮮明な箇所があれば、手をあげて申し出ること。

## 問 題

以下の2種類の物体がある。

【物体A】 各自に支給されたテープ。

大きさは最も長いところで約10cmである。

【物体B】 図に示した金属のかたまり。

2つの垂直面（点線の位置）で切断し、4つに分割した状態を想定する。

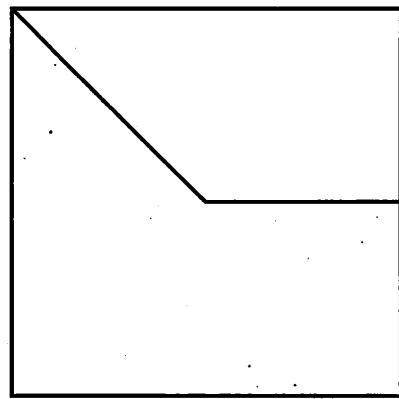
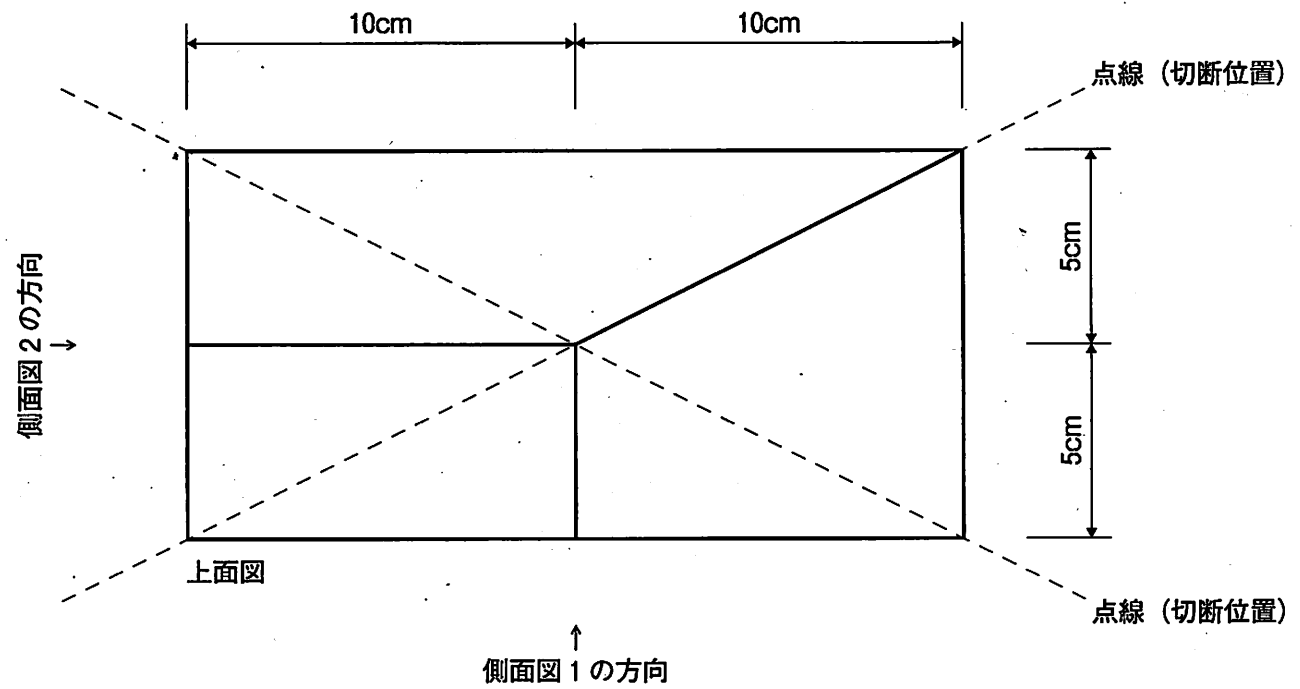
ただし4つに分割したものは、離れた状態で置くものとする。

これらの物体A・Bをひとつの画面として効果的に構成し、それぞれの形態的な特色がよくあらわれるよう、陰影をつけて立体的に描きなさい。なお、これらの物体は白い平面上に置かれているものとする。

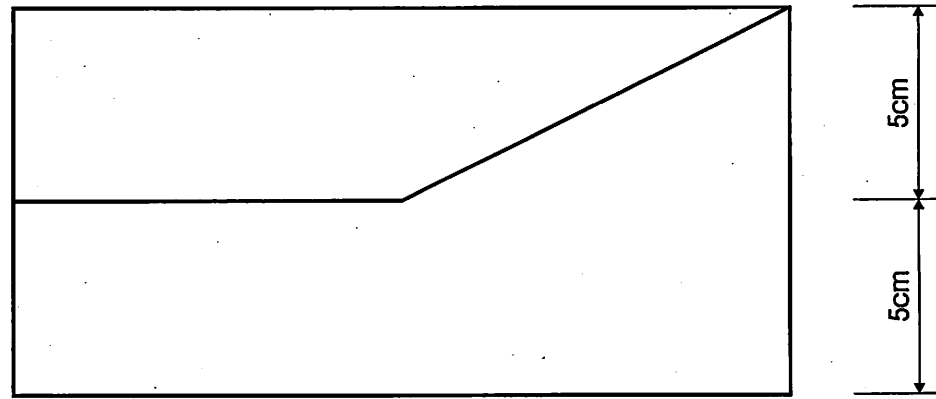
(200点)

[注意]

- ・物体Bは支給しない。
- ・配付された用紙を使って、設問で想定している形態をつくってはならない。
- ・解答用紙は横使い（横長）で使用する。



側面図 2



側面図 1

図